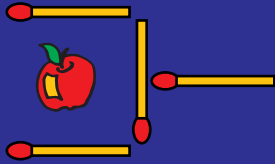


7 problèmes par semaine

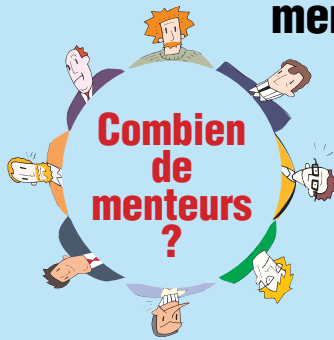
Semaine 7

6 Déplacer
2 allumettes

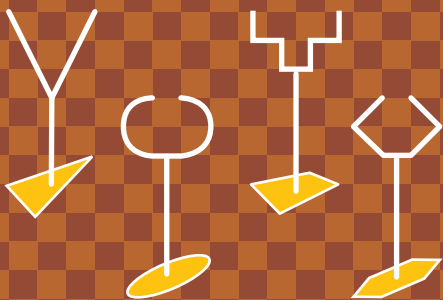


pour que la pomme
soit hors de la pelle.

7 Chacun dit :
"Mon voisin de droite
ment."



8 Dans quelle coupe
Jacqueline aura
le plus de champagne ?



9



Planter **10** arbres
en formant
5 alignements
de **4** arbres.

10 Arnaud
tout habillé, pèse
41 kg. Tout nu il
pèse **37** kg de plus
que ces habits.
**Combien pèse
Arnaud ?**

11

Quelle est la somme
de tous les chiffres
utilisés pour écrire
tous les nombres de
1 à 1000 ?

12 Qui est qui?

